

NOM :
Prénom

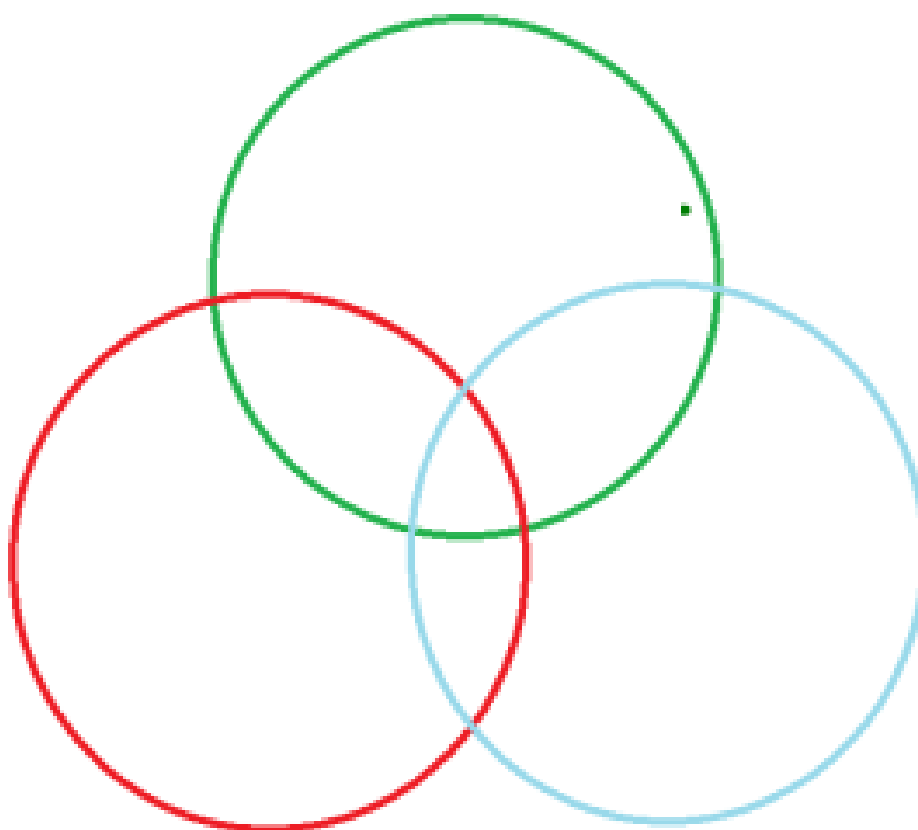
LA QUESTION DEMOGRAPHIQUE ET L'INEGAL DEVELOPPEMENT

Exercice : je sais expliquer le développement durable

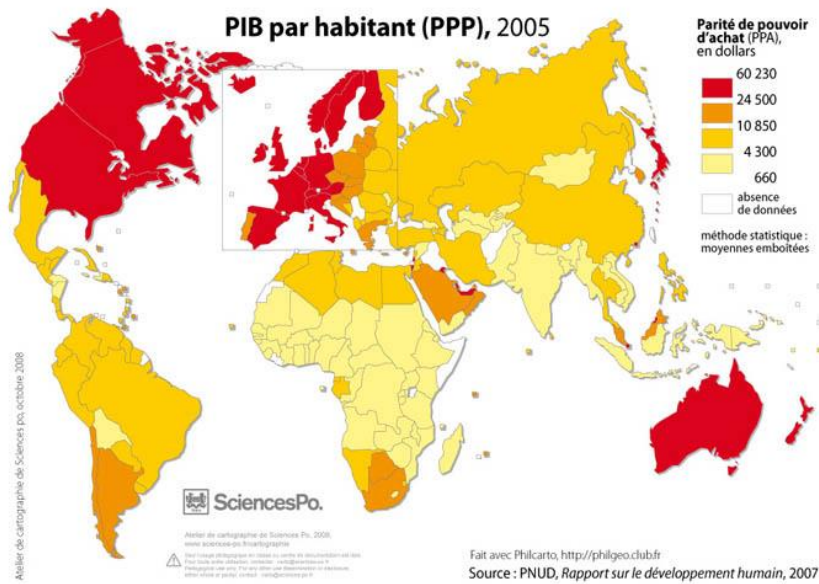
Définissez le développement durable :

.....
.....

Complétez les trois cercles du développement durable ci-dessous, en expliquant à quoi correspond chaque cercle.



Exercice : je sais utiliser des échelles



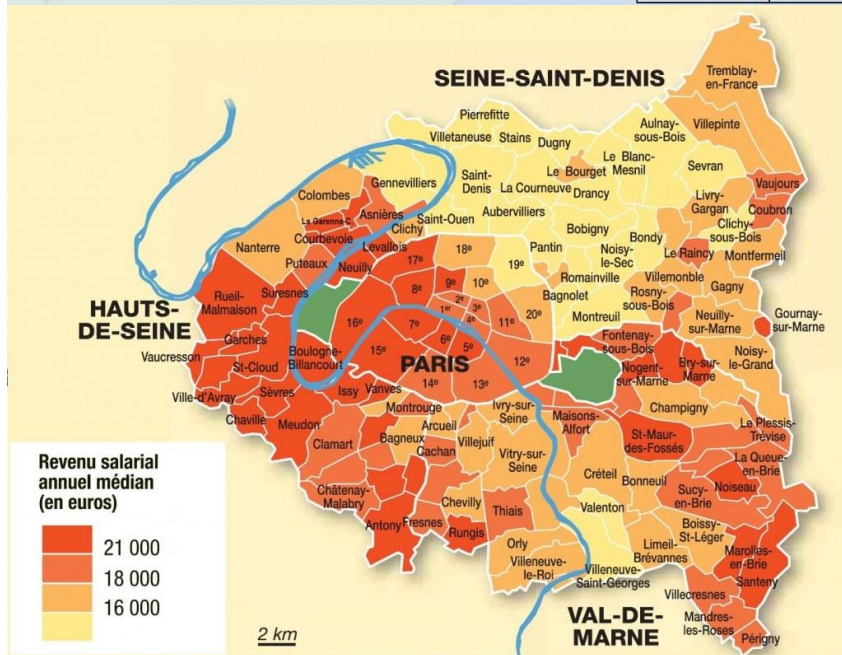
Doc 1 : le PIB/habitant sur terre

1. A quelle échelle se situe-t-on ?
.....
2. Quelles sont les régions du monde avec le PIB/habitant le plus élevé ?
.....
.....
3. Quelles sont les régions du monde avec le PIB/habitant le plus faible ?
.....
.....



Doc 2 : les revenus moyens en France

4. A quelle échelle se situe-t-on ?
.....
5. Quels sont les espaces où les habitants ont les revenus les plus élevés ?
.....
.....
6. Quels sont les espaces où les habitants ont les revenus les plus faibles ?
.....
.....

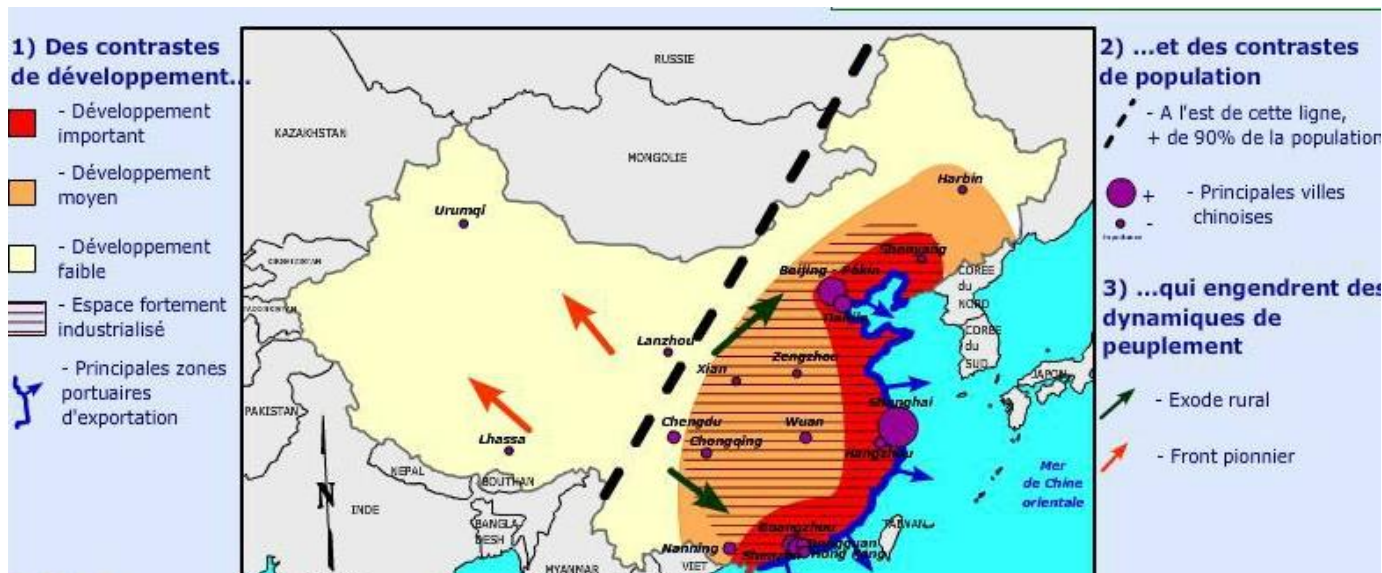


Doc 3 : Les revenus moyens à Paris et dans la petite-couronne

7. A quelle échelle se situe-t-on ?
.....
.....
8. Quels sont les quartiers où les revenus sont les plus élevés ?
.....
.....
.....
9. Quels sont les espaces où les revenus sont les plus faibles ?
.....
.....
.....

es échelles

Exercice : je sais réaliser un croquis



Complétez le fond de carte ci-dessous pour réaliser un croquis sur les dynamiques démographiques de la Chine (3 figurés attendus). Aidez-vous du croquis ci-dessus. Soyez attentifs aux piliers du croquis.



.....

.....

.....

.....

.....

