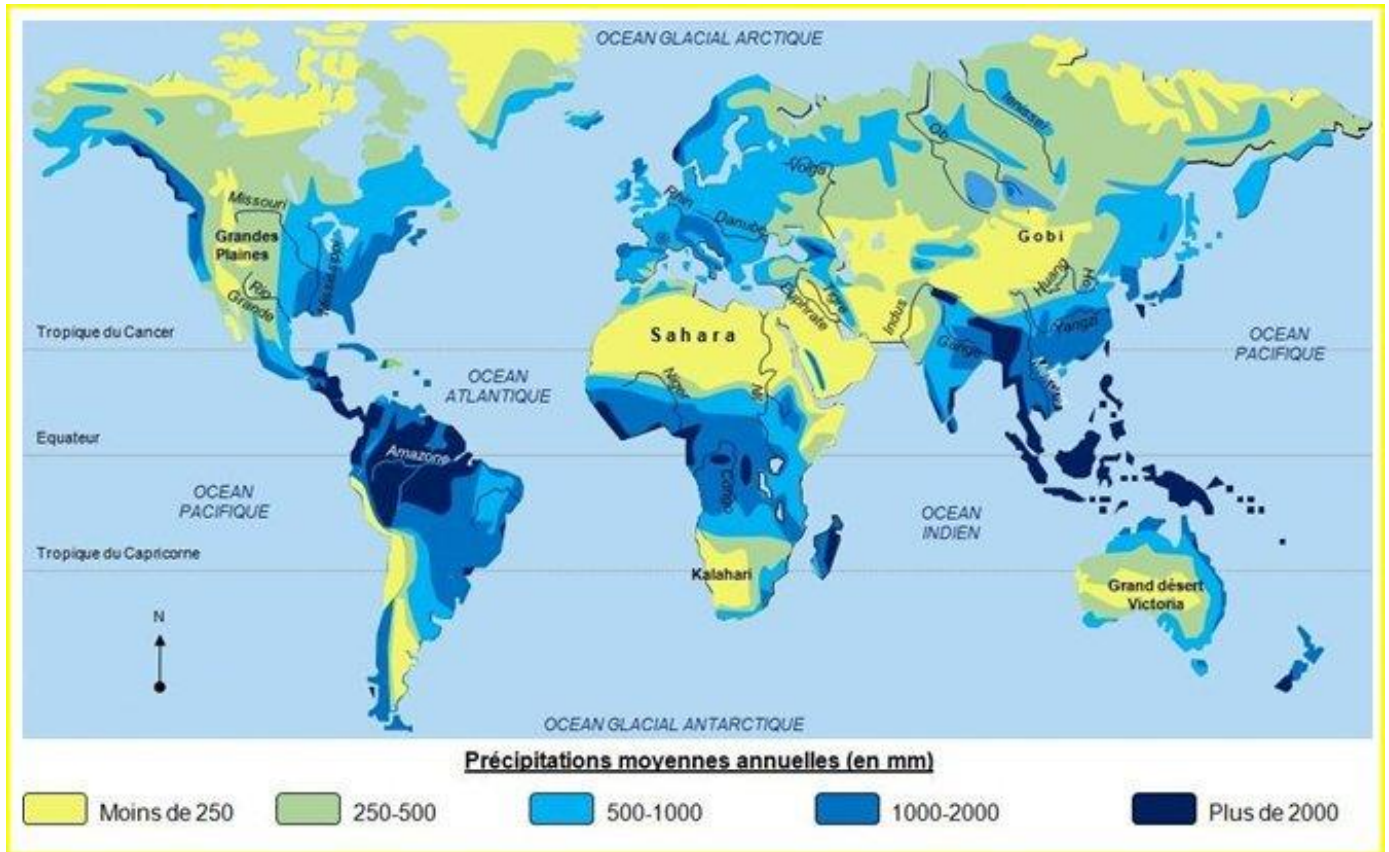


NOM/prénom :

L'EAU, UNE RESSOURCE INEGALEMENT REPARTIE

Exercice : je sais analyser une carte



1. Quelles sont les régions les plus arides sur la carte ci-dessus ? Citez 3 exemples et justifiez votre réponse en la chiffrant précisément.

.....

.....

2. Quelles sont les régions qui reçoivent le plus de précipitations ? Donnez 2 exemples. Où sont situées ces régions sur Terre ?

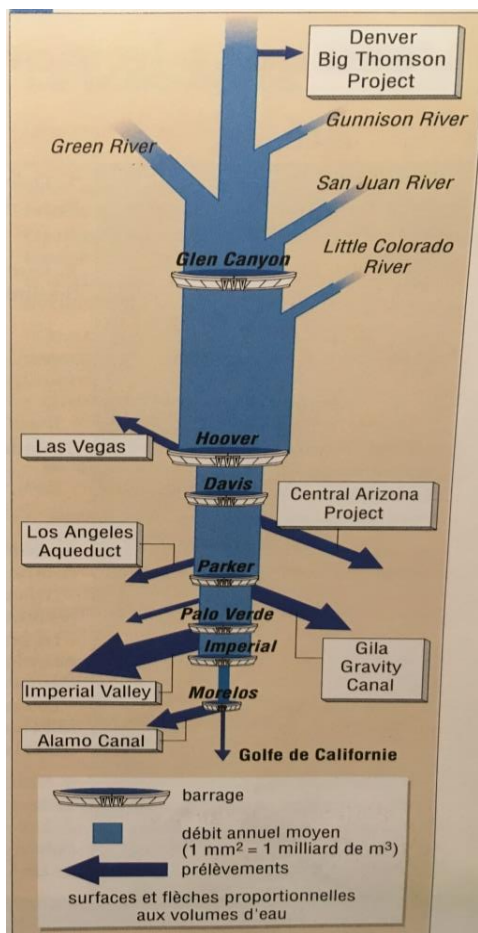
.....

3. Quelle quantité de précipitations la France reçoit-elle en moyenne ? BONUS : quel est le climat de la France ?

.....

4. Sur la carte ci-dessus, localisez le Moyen Orient.

Exercice : je sais expliquer les différents usages de l'eau



Doc 1 : l'évolution du débit du Colorado

- Comment évolue le débit du Colorado ?
 - jusqu'au barrage Hoover :
 - après le barrage Hoover :
- Comment expliquer cette évolution ?
 - jusqu'au barrage Hoover :
 - après le barrage Hoover :
- A quoi servent les barrages sur le fleuve Colorado ?

- (complétez la phrase) Ce sont des barrages..... Ils utilisent..... pour produire de.....
- Est-ce que les barrages sont responsables de la diminution du débit ?

- Qui effectue les plus grands prélèvements d'eau ?

- D'après vos connaissances, quelle activité utilisent le plus d'eau sur Terre ?

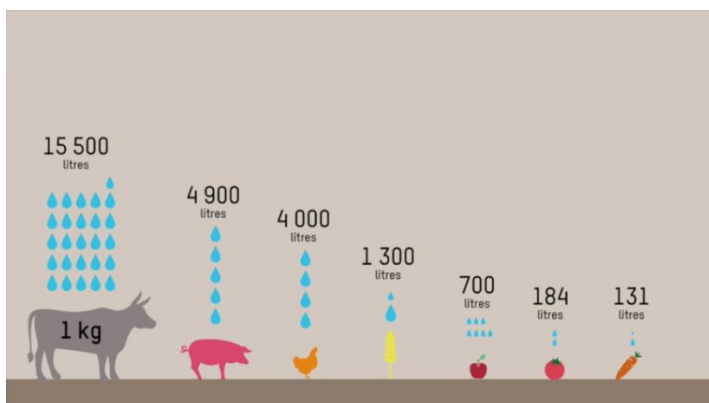
- Dans quel pays est situé le plus grand barrage au monde ? (Bonus : donnez son nom).....

Exercice : je sais définir des mots-clés

- Comment appelle-t-on l'ensemble des techniques qui permettent d'arroser les terres cultivées ?

- Quels sont les 3 principaux usages de l'eau ?

- Donnez deux exemples de maladies hydriques, provoquées directement ou indirectement par l'eau.




- Que montre le document à gauche ?

- Comment appelle-t-on cela en géographie ?

- Quels sont les deux plus grands fleuves à l'échelle mondiale (Bonus) ?

NOURRIR LES HOMMES

Exercice : j'explique l'intensification de l'agriculture

	 <p>Elevage n°1</p>	 <p>Elevage n°2</p>
De quel type d'élevage s'agit-il ?	Elevage Parce que	Elevage Parce que
Quels sont les avantages de ce type d'élevage ?	(trouvez au moins 2 avantages)	(trouvez au moins 2 avantages)
Quels sont les inconvénients de ce type d'élevage ?	(trouvez au moins 2 inconvénients)	(trouvez au moins 2 inconvénients)

1. Donnez deux exemples qui permettent d'intensifier les productions agricoles, en dehors de l'élevage, dans le domaine des cultures :.....


Exercice : Je sais définir des mots-clés

- Agriculture biologique :
- Agriculture commerciale :.....
- Agriculture vivrière :
- Transition alimentaire :.....

1. Comment a évolué le nombre de personnes souffrant de sous-alimentation depuis les années 1960 ?

2. Quel est continent où la proportion de personnes souffrant de sous-alimentation tend à augmenter ?.....

Exercice : j'analyse des caricatures



1. Décrivez la caricature ci-dessus et expliquez ce que souhaite dénoncer le caricaturiste avec ce dessin (appuyez-vous sur au moins 2 exemples chiffrés).

.....

.....

.....

.....

2. Est-ce que l'agriculture nourrit uniquement les hommes aujourd'hui ? Quels sont les autres usages de l'agriculture (citez au moins 2 exemples)

.....

.....

.....

.....



3. Décrivez la caricature ci-contre.

.....

.....

.....

4. Expliquez ce que le caricaturiste a voulu dénoncer.

.....

.....

.....

5. Quel type de commerce (étudié en cours) permet de résoudre en partie ce déséquilibre ?

.....

.....

.....